

### CADERNO DE QUESTÕES

Nome do(a) candidato(a): \_\_\_\_\_ Nº de inscrição: \_\_\_\_\_

CADASTRO DE RESERVA PARA ACESSO ÀS VAGAS DE ESPECIALIZAÇÃO

### Especialização em Guia de Turismo Internacional

Prezado(a) candidato(a):

Antes de iniciar a prova, leia atentamente as instruções a seguir e aguarde a ordem do Fiscal para iniciar o Exame.

1. Este caderno contém 26 (vinte e seis) questões em forma de teste.
2. A prova terá duração de 3 (três) horas.
3. Após o início do Exame, você deverá permanecer no mínimo até as 9h30min dentro da sala do Exame, podendo, ao deixar este local, levar consigo este caderno de questões.
4. Você receberá do Fiscal a Folha de Respostas Definitiva. Verifique se está em ordem e com todos os dados impressos corretamente. Caso contrário, notifique o Fiscal, imediatamente.
5. Após certificar-se de que a Folha de Respostas Definitiva é sua, assine-a com **caneta esferográfica de tinta preta ou azul** no local em que há a indicação: "ASSINATURA DO(A) CANDIDATO(A)".
6. Após o recebimento da Folha de Respostas Definitiva, não a dobre e nem a amasse, manipulando-a o mínimo possível.
7. Cada questão contém 5 (cinco) alternativas (A, B, C, D, E) das quais somente uma atende às condições do enunciado.
8. Responda a todas as questões. Para cômputo da nota, serão considerados apenas os acertos.
9. Os espaços em branco contidos neste caderno de questões poderão ser utilizados para rascunho.
10. Estando as questões respondidas neste caderno, você deverá primeiramente passar as alternativas escolhidas para a Folha de Respostas Intermediária, que se encontra na última página deste caderno de questões.
11. Posteriormente, você deverá transcrever todas as alternativas assinaladas na Folha de Respostas Intermediária para a Folha de Respostas Definitiva, utilizando **caneta esferográfica de tinta preta ou azul**.
12. Questões com mais de uma alternativa assinalada, rasurada ou em branco serão anuladas. Portanto, ao preencher a Folha de Respostas Definitiva, faça-o cuidadosamente. Evite erros, pois a Folha de Respostas não será substituída.
13. Preencha as quadrículas da Folha de Respostas Definitiva, com **caneta esferográfica de tinta preta ou azul** e com traço forte e cheio, conforme o exemplo a seguir: 

A	B	C	D	E
---	---	---	---	---
14. Quando você terminar a prova, avise o Fiscal, pois ele recolherá a Folha de Respostas Definitiva, na sua carteira. Ao término da prova, você somente poderá retirar-se da sala do Exame após entregar a sua Folha de Respostas Definitiva, devidamente assinada, ao Fiscal.
15. Enquanto o candidato estiver realizando o Exame, é terminantemente proibido utilizar calculadora, computador, telefone celular (o(s) aparelho(s) deverá(ão) permanecer totalmente desligado(s)), inclusive sem a possibilidade de emissão de alarmes sonoros ou não, nas dependências do prédio onde o Exame será realizado), radiocomunicador ou aparelho eletrônico similar, chapéu, boné, lenço, gorro, máscara fechada que impeça a visualização do rosto, óculos escuros, corretivo líquido/fita ou quaisquer outros materiais (papéis) estranhos à prova.
16. O desrespeito às normas que regem o presente Processo Seletivo Vestibulinho, bem como a desobediência às exigências registradas na Portaria e no Manual do Candidato, além de sanções legais cabíveis, implicam a desclassificação do candidato.
17. Será desclassificado do Processo Seletivo-Vestibulinho, o candidato que:
  - não comparecer ao Exame na data determinada;
  - chegar após o horário determinado de fechamento dos portões, às 8h00;
  - realizar a prova sem apresentar um dos documentos de identidade originais exigidos ou não atender o previsto nos §§5º e 6º do artigo 23 da Portaria CEETEPS–GDS que regulamenta o Processo Seletivo–Vestibulinho;
  - não apresentar um dos documentos de identidade originais exigidos ou não atender o previsto nos §§5º e 6º do artigo 23 da Portaria CEETEPS–GDS que regulamenta o Processo Seletivo–Vestibulinho;
  - retirar-se da sala de provas sem autorização do Fiscal, com ou sem o caderno de questões e/ou a Folha de Respostas Definitiva;
  - utilizar-se de qualquer tipo de equipamento eletrônico, de comunicação e/ou de livros, notas, impressos e apontamentos durante a realização do exame;
  - retirar-se do prédio em definitivo, antes de decorrida uma hora e trinta minutos do início do exame, por qualquer motivo;
  - perturbar, de qualquer modo, a ordem no local de aplicação das provas, incorrendo em comportamento indevido durante a realização do Exame;
  - retirar-se da sala de provas com a Folha de Respostas Definitiva;
  - utilizar ou tentar utilizar meio fraudulento em benefício próprio ou de terceiros, em qualquer etapa do exame;
  - não atender as orientações da equipe de aplicação durante a realização do exame;
  - realizar ou tentar realizar qualquer espécie de consulta ou comunicar-se e/ou tentar comunicar-se com outros candidatos durante o período das provas;
  - realizar a prova fora do local determinado pela Etec/Extensão de Etec;
  - zerar na prova teste.

Gabarito oficial

Resultado

BOA PROVA!

• O gabarito oficial da prova será divulgado a partir das 15h do dia **22/12/2022**, no site **vestibulinhoetec.com.br**

• Divulgação da lista de classificação geral a partir das 15h do dia **10/01/2023**, no site **vestibulinhoetec.com.br**

Etec

Etec

### Questão 01

A atividade turística, quando pensada em termos profissionais, apresenta a necessidade de reconhecimento de terminologias técnicas que são utilizadas desde o planejamento de uma viagem até estudos técnicos para o desenvolvimento de atrativos em uma localidade.

Tendo em vista o exposto, qual alternativa apresenta um conceito correto sobre a terminologia turística?

- (A) Turismo doméstico é aquele realizado por pessoas em sua própria cidade de moradia.
- (B) Turismo Internacional é o praticado em países que estão em outros continentes.
- (C) Uma pessoa é considerada um excursionista quando viaja e não realiza pernoite.
- (D) Turista é o viajante que permanece, ao menos, 48 horas no destino turístico visitado.
- (E) Atrativos turísticos são os locais mais visitados pelos habitantes do próprio destino turístico.

### Questão 02

A atividade de planejamento do turismo é extremamente complexa, pois envolve diversas etapas e pessoas atuando no processo. Justamente por sua dificuldade de realização costuma levar alguns meses e envolve diversos custos com pesquisas e reuniões, por exemplo.

Sobre essa temática, qual a alternativa correta?

- (A) O planejamento do turismo parte do governo federal, sendo que estados e municípios atuam como auxiliares nesta atividade.
- (B) Os habitantes e empresário do turismo de uma cidade devem ser ouvidos no planejamento das atividades do setor.
- (C) O planejamento turístico oferece a possibilidade para que moradores sejam removidos das áreas centrais para a periferia.
- (D) A sustentabilidade ambiental escapa às responsabilidades do planejamento turístico, que se ocupa da sustentabilidade econômica.
- (E) O planejamento turístico de um município é de cunho privado, sendo as empresas do setor responsáveis por sua organização.

### Questão 03

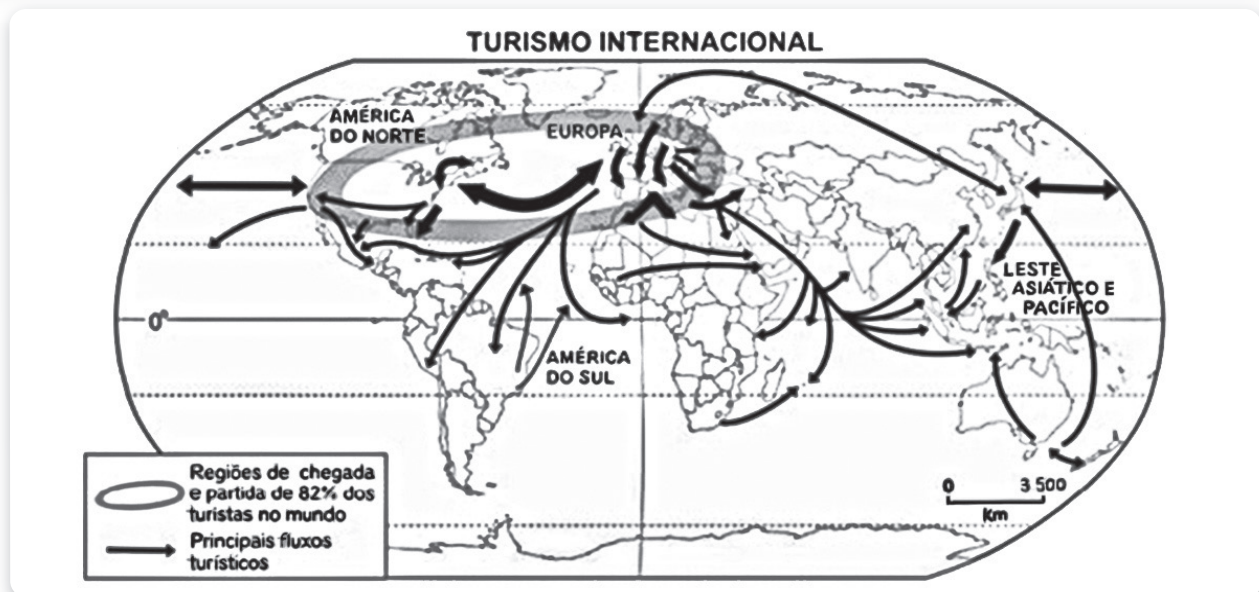
Segundo Trigo et. al (2007): “a recreação é a atividade planejada e dirigida especificamente para divertir o cliente. Tem como características adicionais entreter, ocupar e integrar seus usuários.” A afirmação em questão demonstra as funções de atividade recreativa, e indica que a recreação pode ter seu uso expandido, para além do mundo da recreação infantil. Nesse sentido, para o guia de turismo, conhecer e saber aplicar atividades de recreação pode ser muito proveitoso para momentos específicos de uma viagem.

Fonte: TRIGO, L. G. G. Aprendiz de Lazer e Turismo. São Paulo: Ipsis, 2007.

Sobre o uso da recreação por guias de turismo, aponte a alternativa correta.

- (A) O guia de turismo é um recreador, mas que possui algumas funções a mais quando em viagem, desse modo, deve ter amplo domínio da prática de atividades recreativas.
- (B) A recreação é uma ferramenta de entretenimento e será aplicada pelo guia de turismo antes da entrada em atrativos culturais para aumentar o interesse pelo local.
- (C) O guia de turismo tem na recreação uma ferramenta de apoio, lançando mão desse recurso em trajetos de ônibus, como quebra-gelo ou para preencher o tempo vago.
- (D) O guia de turismo para ter a possibilidade de uso das atividades recreativas necessita fazer o curso de qualificação profissional que o certifica como recreador.
- (E) Os brasileiros possuem maior disponibilidade para participar de atividades recreativas, assim o guia de turismo não precisa se preocupar com o perfil do grupo.

#### Questão 04



Fonte imagética: IDGA. Atlante Geográfico Metódico de Agostini. Novara: IDGA, 2009

O mapa apresentado demonstra o fluxo de turistas entre diferentes partes do planeta Terra. Reconhecer essas movimentações são fundamentais para planejar o turismo e aprender sobre as motivações das viagens dos turistas. Analise as afirmações a seguir sobre o tema.

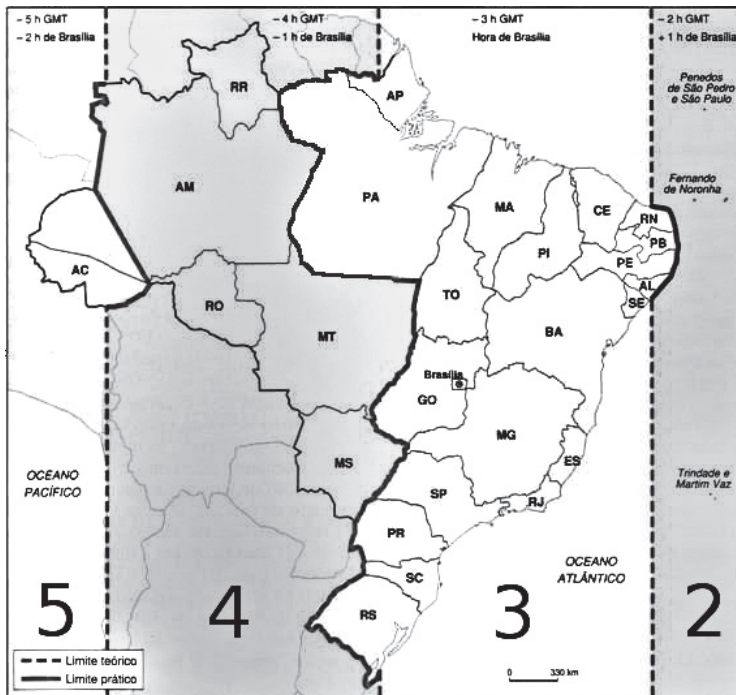
1.	Os destinos turísticos que recebem grandes fluxos de pessoas, como a cidade de Orlando nos Estados Unidos, têm seu espaço geográfico modificado pelo ser humano para atender às demandas do turismo.
2.	O fluxo turístico entre América do Norte e Europa gera impactos, que por vezes, passa despercebido, como o da poluição ambiental provocada pelos resíduos da queima de combustível liberado pelos aviões.
3.	A África Central e América do Sul possuem um fluxo de turismo de grande porte entre eles, trocando grandes número de viajantes e produzindo modificações relevantes no espaço geográfico desses países.

Qual alternativa que traz as afirmações corretas:

- (A) 1, 2 e 3.
- (B) 1 e 2, somente.
- (C) 2 e 3, somente.
- (D) 1, somente.
- (E) 3, somente.

### Questão 05

Uma pessoa saiu de Rio Branco (AC) às 10 h da manhã em um voo de 5 horas de duração em direção a São Paulo (SP). Qual o horário de chegada dessa pessoa no destino?



<https://tinyurl.com/mr3yxdep> Acesso em 12.11.2022. Original colorido.

- (A) 17 h
- (B) 15 h
- (C) 13 h
- (D) 16 h
- (E) 18 h

### Questão 06

O guia de turismo, por sua vez, tem no mapa uma de suas ferramentas para orientação ou mesmo como fonte de informações para a elaboração de seu speech. Por esse motivo é muito importante o conhecimento de noções de cartografia por parte desse profissional. Sobre cartografia, aponte a alternativa correta.

- (A) A relação dos mapas com o turismo é a de informar os turistas sobre os atrativos e meios de hospedagens de um destino, não tendo utilidade no planejamento.
- (B) No Brasil, a confecção e utilização de mapas turísticos deve ser autorizada pelo Ministério do Turismo, pois implica na divulgação de informações geográficas.
- (C) Os mapas disponibilizados por sites, como o Google Maps, não têm utilidade para os guias de turismo, já que não são capazes de apontar a localização de atrativos.
- (D) Os mapas turísticos devem ser confeccionados por guias de turismo com formação em geografia para terem permissão de utilização pelas secretarias de turismo.
- (E) O mapa turístico não tem a obrigação de guardar escala e proporção, podendo, inclusive, utilizar-se de recursos artísticos para estimular a imaginação do turista.

### Questão 07

A cidade de Olinda, em Pernambuco, apresenta um centro histórico fortemente marcado pela preservação de seus prédios e muito buscado por turistas ao longo de todo o ano. Essa preservação do casario e de igrejas tornou a preservação patrimonial um grande atrativo turístico. Imaginando-se como um guia que conduz turistas em uma localidade como a citada, assinale a alternativa que aponta para a correta atitude em relação à localidade.

- (A) Ao ver um turista depredando o patrimônio histórico do local, o guia deve esperar o grupo chamar atenção do envolvido para não causar desgaste social.
- (B) O guia passará informações superficiais e inventará fatos para que seu speech fique mais interessante em termos históricos.
- (C) Para o guia, seria mais interessante que o patrimônio histórico fosse derrubado e desse lugar a réplicas de monumentos e prédios famosos.
- (D) O guia busca verificar o perfil dos turistas e adaptar seu speech para que história local seja apresentada da forma mais interessante.
- (E) O guia monta seu roteiro selecionando atrativos próximos de lojas de lembranças que lhe pagam mais comissão, aumentando seus ganhos.

### Questão 08

Leia o texto.

#### Revelando São Paulo

O Programa Revelando São Paulo foi criado em 1996 pela Abaçai Cultura e Arte, em parceria com o Governo do Estado de São Paulo.

Sempre voltado para a Cultura Tradicional do Estado de São Paulo (Patrimônio Imaterial) é um articulador e promotor de ações e políticas culturais em todo o Estado, envolvendo pesquisas, relações institucionais, contatos com as mais diversas comunidades, diálogos e parcerias com os dirigentes culturais dos municípios e instituições privadas de natureza cultural e/ou educacional.

As pessoas de uma localidade, região ou país costumam estar ligadas a hábitos, costumes, crenças que formam a chamada identidade cultural. Essa identidade é a maneira como as pessoas se conectam para viver em sociedade e mesmo construir novas identidades. O Festival da Cultura Paulista Tradicional busca resgatar grupos folclóricos, artesãos e a parte de gastronomia que por vezes fica esquecida ou mesmo é desconhecida das pessoas que vivem no estado de São Paulo. Como o próprio texto fala, o foco do evento é no patrimônio imaterial. Utilizando os estudos sobre cultura e turismo, julgue as afirmações a seguir.

Fonte: <http://www.abacai.org.br/revelando-interno.php?id=281> (adaptado)

Quais afirmações estão corretas?

1.	A culinária tradicional faz parte da cultura de um povo porque as receitas são passadas entre famílias ou comunidades e trazem tradições em seu modo de fazer.
2.	São Paulo, por ser muito populoso, e ter melhores índices socioeconômicos não apresenta uma identidade cultural em relação aos demais estados brasileiros.
3.	Apresentações ligadas ao folclore de uma comunidade fazem parte da cultura popular, já que são transmitidas oralmente e aprendidas ao serem vivenciadas.

- (A) 1, somente.
- (B) 1 e 2, somente.
- (C) 1 e 3, somente.
- (D) 2 e 3, somente.
- (E) 3, somente.



### Questão 09

O turista cultural tem um perfil muito peculiar tanto em seus interesses quanto em suas características socioeconômicas. Esse perfil de interesse precisa, portanto, ser analisado para que se planejem de modo adequado, roteiros e speeches. A partir dos conhecimentos sobre turismo e cultura, indique a alternativa correta.

- (A) O turista cultural de interesse ocasional é aquele que viaja para um lugar em busca de uma outra atividade e acaba praticando atividades culturais secundariamente.
- (B) O turista cultural de interesse específico é a pessoa que viaja a um determinado destino para visitar um único atrativo turístico e ao terminar o passeio vai embora.
- (C) O turista cultural de interesse elementar é aquele que busca atrativos culturais, mas sempre precisa de ajuda para os compreender pois não tem conhecimento.
- (D) O turista cultural de interesse inequívoco é o viajante que já estudou e se programou para conhecer os atrativos turísticos, bem como as manifestações culturais.
- (E) O turista cultural de interesse acadêmico é aquele que visita atrativos turísticos com grupos escolares ou de faculdade para realizar estudos de campo e do meio.

### Questão 10

A arte é um conjunto de invenções humanas buscando expressar o belo. Como o conceito de beleza é variável, a arte também não traz a obrigação de agradar a todos os públicos, por vezes, inclusive, é mais fácil de ser compreendida quando estudada quanto ao seu contexto histórico. Sobre as artes e sua relação com o turismo, qual a alternativa está correta?

- (A) O grafite para ser considerado arte precisaria estar enquadrado em padrões eruditos e se desenvolver em espaços indicados por prefeituras para que as pinturas pudessem ser fiscalizadas.
- (B) O turismo tem uma forte ligação com a arte, já que esta se manifesta de diferentes modos como na arquitetura, música, pinturas, esculturas, entre outros, que podem compor roteiros turísticos.

- (C) Obras de arte expostas em museus perdem sua relevância para a humanidade à medida que são observadas por um grande contingente de pessoas e deixam de oferecer o fator surpresa.
- (D) O Brasil é submetido a um esquema socioeconômico internacional que influencia nossos hábitos artísticos e por esse motivo a arte produzida por brasileiros tem pouca relevância para o mundo.
- (E) A arte, por acompanhar a história humana, tem possibilidades de interpretação adequada à geração correspondente do período em que foi produzida, sendo irrelevante para os demais.

### Questão 11

Os meios de hospedagem são um dos elementos fundamentais da chamada cadeia produtiva do turismo. No Brasil, o Ministério do Turismo utiliza algumas categorias que os diferenciam de acordo com sua infraestrutura e localização. Qual alternativa aponta corretamente a definição de um tipo de meio de hospedagem?

- (A) **Hotel fazenda:** hotéis temáticos para pessoas que querem vivenciar o trabalho duro da fazenda, cortando cana de açúcar no sol e limpando o estábulo do cavalo.
- (B) **Resort:** hotel com infraestrutura de lazer e entretenimento que disponha de serviços, como recreação, lazer e convívio com a natureza no próprio empreendimento.
- (C) **Pousada:** são hotéis com estrutura simplificada para atender aos hóspedes, ficando próximo de aeroportos e tendo seu nome associado justamente ao pouso dos aviões.
- (D) **Hotel histórico:** é o meio de hospedagem mais antigo de um município, podendo ou não manter sua aparência original, mas devendo estar no local de sua fundação.
- (E) **Hotel oceânico:** meio de hospedagem localizado de frente ao mar, tendo acesso direto à faixa de areia da praia sem nenhuma rua ou avenida interposta no caminho.

## Questão 12

São Paulo é conhecida pela grande quantidade de museus presentes no município, em especial os museus de arte, que estão entre os mais famosos, como o MASP e a Pinacoteca do Estado. Sobre a arte e seu uso no turismo, indique a alternativa correta.

- (A) A arte está melhor representada em espetáculos culturais e na arte de rua do que em museus.
- (B) Museus de arte têm grande atratividade e costumam ser atrativos importantes em muitas cidades.
- (C) O guia de turismo que trabalha com arte precisa de formação específica em artes plásticas ou design.
- (D) A arte erudita apresenta mais interesse para o turista que a arte popular por ser mais elaborada.
- (E) Museus de arte costumam ter explicação impressa nos quadros o que dispensa o trabalho do guia.

## Questão 13

Segundo a Portaria 37, de 11/11/2021, do Ministério do Turismo, sobre as categorias de atuação do Guia de Turismo, aponte a alternativa que traz as informações corretas.

- (A) Guia Regional é a denominação para aqueles que conduzem excursões rodoviárias.
- (B) Guia de Excursão Nacional tem a limitação de viagens dentro do território nacional.
- (C) Guia Internacional pode ser credenciado provando o serviço em 3 viagens ao exterior.
- (D) Guia Especializado em atrativo turístico desenvolve atividades culturais ou naturais.
- (E) Guia Agente é aquele que pode promover e organizar viagens de modo legalizado.

## Questão 14

Os roteiros turísticos são uma forma de comercialização de atrativos e serviços de modo agrupado e organizado, possibilitando uma maior identidade comercial. Sobre a tipologia de roteiros turísticos, aponte a afirmação correta.

- (A) **Forfait:** roteiros elaborados de modo personalizado para consumidor final, considerando as motivações, tempo disponível para permanência, número de pessoas, focos de interesse, qualidade desejada de serviços, disponibilidade de gastos.
- (B) **Pacotes:** roteiros de organização muito complexa, pois visa a um público exigente que busca características diferenciadas, costumando englobar grandes grupos de pessoas que fazem parte de um mesmo núcleo de convivência, como amigos e familiares.
- (C) **Excursão:** roteiros de longa duração e realizados em grupo, costuma ter ônibus fretado nos destinos turísticos para levar o grupo e utiliza de avião ou até mesmo cruzeiro para levar os turistas de seu local de residência até a cidade principal da viagem.
- (D) **City Tour:** roteiros que duram ao menos 3 dias e tem foco nos atrativos de grandes cidades, de modo a englobar os principais atrativos da localidade, propiciando uma experiência o mais completa possível em relação ao destino turístico.
- (E) **Ponto a ponto:** roteiros que envolvem a inclusão de muitas cidades em um espaço de tempo curto, sendo necessário um tempo mínimo de duas semanas e necessitando de um grande esforço de logística de transporte para sua organização.

## Questão 15

Uma Operadora de Turismo decidiu organizar um pacote de viagem temático sobre arte urbana na cidade de São Paulo para turistas estrangeiros e contratou uma agência de turismo na localidade para organizar e gerir o roteiro, além de receber os turistas, desde o aeroporto e acompanhá-los por toda a estadia. Sobre esta situação, é correto afirmar:

- (A) A agência de turismo em São Paulo é a chamada emissiva, já que conduzirá os turistas através dos atrativos.
- (B) O guia de turismo que será contratado pela agência de São Paulo é o de Excursão Nacional e América do Sul.
- (C) A agência não precisa contratar um guia de turismo, pois o trabalho pode ser realizado por um monitor.
- (D) O guia de turismo que acompanha os turistas desde a cidade de residência é o chamado guia turístico aéreo.
- (E) A agência que organizará o roteiro em São Paulo fará o serviço de receptivo e deve contar com o Guia Regional.

### Questão 16

Ao conduzir um grupo de turistas pela rua, existem alguns procedimentos que devem ser observados. Indique a alternativa que traz uma situação considerada correta.

- (A) O guia deve seguir atrás do grupo para que não corra o risco de perder algum turista pelo caminho.
- (B) O guia deve ser a referência, permanecendo à frente do grupo, a não ser em casos excepcionais.
- (C) Ao ir de um atrativo a outro andando, o guia deve indicar ao grupo a direção e deixar livre o caminho.
- (D) Paradas para lanches, por serem rápidas, podem ser decididas ao longo do trajeto sem planejamento.
- (E) Caso uma pessoa torça o pé caminhando, o guia deve mexer no calcanhar da pessoa até a dor passar.

### Questão 17

No Brasil, a prática do turismo de sol e praia tem amplo destaque, tanto nas viagens domésticas quanto nas internacionais, mas é inegável o potencial das atividades turísticas ligadas ao meio natural. Por sua vez, o termo sustentabilidade é constantemente utilizado quando se trata desse segmento turístico.

Tendo em vista a ecologia e a proteção ao meio ambiente como elementos de estudo, avalie as frases a seguir.

1. **Utilização sustentável do patrimônio natural e cultural:** o conceito de sustentabilidade, embora de difícil delimitação, refere-se ao “desenvolvimento capaz de atender às necessidades da geração atual sem comprometer os recursos para a satisfação das gerações futuras”.
2. **Incentivo à conservação do patrimônio natural e cultural e busca de uma consciência ambientalista:** existe uma incoerência nesse preceito, já que a sustentabilidade tem uma preocupação ampla com o meio natural, sendo o cultural pouco relevante em sua abordagem.
3. **Promoção do bem-estar das populações:** este elemento é primordial para que se possam criar fontes de renda para os povos que vivem no entorno de áreas de preservação e, assim, não demandem da degradação ambiental, como o extrativismo vegetal de plantas ameaçadas para seus sustento.

Está correto o descrito em:

- (A) 1, 2 e 3.
- (B) 1 e 2, somente.
- (C) 1 e 3, somente.
- (D) 2 e 3, somente.
- (E) 1, somente.

### Questão 18

A segmentação turística é um elemento muito importante no reconhecimento do perfil dos turistas e dos atrativos de determinada localidade, possibilitando, assim, oferecer um turismo qualificado em termos de lazer e de serviços. O estado de São Paulo possui diversos destinos que atendem a diferentes demandas. Identifique dentre as alternativas a que traz a correta relação entre uma localidade, sua atração turística e o segmento turístico destacado.

- (A) Ribeirão Preto abriga a Agrishow, feira de produtos do setor agropecuário que ocorre entre o fim de abril e começo de maio de cada ano. Segmento de Turismo Rural.
- (B) Barretos é referência, em todo o Brasil, no tratamento de pessoas com câncer, abrigando um hospital que oferece tratamento pelo SUS. Segmento de Turismo Social.
- (C) São Paulo recebe anualmente a maior feira de náutica indoor (ocorre em um Centro de Exposições) da América Latina. Segmento de Turismo Náutico.
- (D) Brotas possui uma grande área de mata preservada aliada ao Rio Jacaré Pepira, com fortes corredeiras e possibilidade de Rafting. Segmento de Turismo de Aventura.
- (E) Olímpia possui um dos maiores parques aquáticos do mundo, rivalizando, por exemplo, com o Beach Park no Ceará. Segmento de Turismo Espeleológico.

### Questão 19

Analise os conceitos apresentados a seguir sobre as definições de pessoas que viajam a outro país segundo a Organização Mundial de Turismo (OMT).

- 1) **Visitante** – descreve a pessoa que visita um país que não seja o de sua residência, por qualquer motivo, e que nele venha a exercer ocupação remunerada.
- 2) **Turistas** – visitantes temporários que permaneçam pelo menos vinte e quatro horas no país visitado, tendo como motivo da viagem lazer ou negócios.



- 3) **Excursionistas** – visitantes temporários que permaneçam mais de vinte e quatro horas no país visitado (incluindo viajantes de cruzeiros marítimos)

Tendo isso em conta, assinale a alternativa correta.

- (A) 1, somente.
- (B) 2 e 3, somente.
- (C) 2, somente.
- (D) 1 e 3, somente.
- (E) 1, 2 e 3.

### Questão 20

Os mapas turísticos, também chamados temáticos, são amplamente utilizados em localidades turísticas por todo o mundo, em geral, distribuídos gratuitamente por órgãos públicos ou associações empresariais ligadas ao turismo. Sobre as características e funções do mapa turístico, selecione a alternativa correta.

- (A) O mapa tem por princípio manter a escala e proporção do local mapeado.
- (B) Uma de suas funções é divulgar os atrativos turísticos da localidade.
- (C) O uso de recursos artísticos é uma forma de encobrir os problemas técnicos.
- (D) Apesar de representações artísticas, são extremamente fiéis ao espaço.
- (E) Mapas turísticos só podem ser assim nomeados se feitos por cartógrafos.

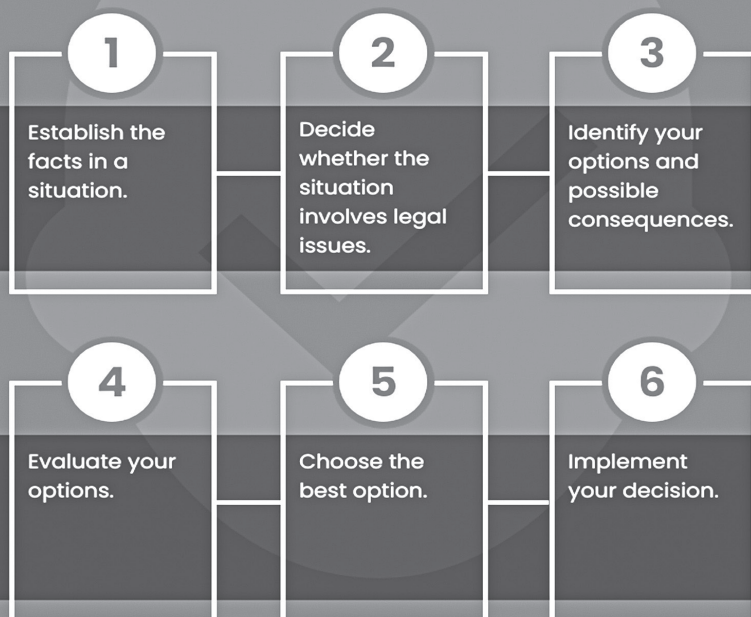
### Questão 21

Leia o texto.

## 6 STEPS

### To Ethical Decision Making

You may feel unsure about a situation and a decision, since there seem to be a number of acceptable alternatives. If you ask yourself these types of questions, the issue probably has ethical or moral implications.



<http://www.coach.ca/6-steps-for-making-ethical-decisions-p159802> your options.

Dentre os passos para uma tomada de decisão ética, o texto sugere que a pessoa

- (A) verifique a fonte de informação.
- (B) decida com quais pessoas deseja trabalhar.
- (C) veja se há questões jurídicas envolvidas.
- (D) pesquise se houve desinformação no processo.
- (E) exclua pessoas não pertinentes ao processo.

Disponível em: <<https://tinyurl.com/mrypsn7x>> Acesso em: 30.10.2022. Original colorido.

# ICELAND TRIP

The following is a summary of some of the excursions on the Iceland trip.



## BLUE LAGOON

We spend a few hours swimming and lounging in Iceland's famous Blue Lagoon formed in 1976. This is certainly the highlight of the trip.

Have a silica mud mask or swim over to the café and buy a drink!

## SOUTH SHORE EXCURSION



### SKOGAFOSS



### SELJALANDSFÖSS



### SOLHEIMAJÖKULL

Visit some amazing waterfalls on this excursion. Skogafoss is an incredible 60m in height and always has rainbows!

Take a walk behind the waterfall Seljalandsfoss, bringing your waterproofs!

Take a walk on the glacier Solheimajokull and see how it has changed the landscape.

## GOLDEN CIRCLE

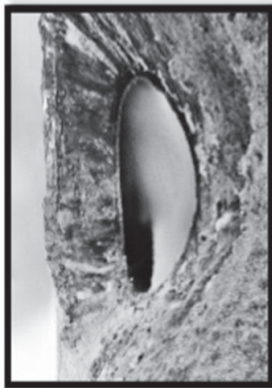


## GULFOSS

It is difficult to see the scale of this waterfall on the picture, but it is absolutely vast! It really shows the power of the planet.

## KERID

Circumnavigate the crater of a volcano



## GEYSER

Watch 'geysir' or Strokkur erupt boiling water to heights of 30 metres every few minutes.



## ÞINGVELLIR

See the North American and Eurasian tectonic plate meet at Thingvellir, the site of Iceland's first parliament.



### Questão 22

No local descrito como o ponto alto da viagem à Islândia, recomenda-se que o turista

- (A) aproveite para fazer uma máscara de lama e nadar.
- (B) visite quedas d'água e seus arco-íris.
- (C) circunavegue uma cratera de vulcão.
- (D) observe a erupção de água fervente de um géiser.
- (E) veja onde as placas tectônicas da América do Norte e Eurásia se encontram.

### Questão 23

A palavra *amazing* tem como sinônimo o termo

- (A) lounging.
- (B) incredible.
- (C) landscape.
- (D) vast.
- (E) boiling.

Leia a tirinha para responder às questões 24 a 26.



Disponível em: <[http://www.clarin.com/humor/sendra/yo-matias\\_18221.html](http://www.clarin.com/humor/sendra/yo-matias_18221.html)> Acesso em: 00/10/22. Original colorido.

### Questão 24

No trecho da tirinha **Yo, Matias**, do argentino Fernando Sendra, “**Porque** los países tienen límites...”, pode-se substituir a palavra destacada sem perder o sentido por:

- (A) Aunque
- (B) A causa de que
- (C) Para
- (D) Mientras
- (E) Salvo que

### Questão 25

Sobre a pontuação usada na tirinha **Yo, Matias**, do argentino Fernando Sendra, é correto afirmar que:

- (A) há um equívoco em usar a interrogação invertida em “Má... ¿Por qué hay guerra?”
- (B) há um equívoco em usar as reticências em “Porque los países tienen límites...”
- (C) há um equívoco no uso da vírgula em “... pero las ambiciones y la crueldad, no los tienen”
- (D) há um equívoco no uso da vírgula em “El problema es que algunos quieren quedar en la historia, pero se la agarran con la geografía”
- (E) não há nenhum equívoco na pontuação usada na tirinha em questão

### Questão 26

Sobre a tirinha **Yo, Matias**, do argentino Fernando Sendra, é correto afirmar que:

- (A) Ao dizer “límites”, a mãe de Matias se refere tanto a “fronteira geográfica” quanto a “final, término”.
- (B) Para a mãe de Matias, é um problema que os países tenham limites.
- (C) Para a mãe de Matias, o problema é que alguns usem as guerras históricas para limitar as fronteiras geográficas.
- (D) A mãe de Matias afirma que as ambições e a crueldade não estão presentes nos países em que há guerra.
- (E) A mãe de Matias acredita que a guerra não passa dos limites dos países que a fazem.



### FOLHA DE RESPOSTAS INTERMEDIÁRIAS

Nome do(a) candidato(a): \_\_\_\_\_ Nº de inscrição: \_\_\_\_\_

Prezado(a) candidato(a),

1. Responda a todas as questões contidas neste caderno e, depois, transcreva as alternativas assinaladas para esta Folha de Respostas Intermediária.
2. Preencha os campos desta Folha de Respostas Intermediária, conforme o modelo a seguir:  

A	B	<input checked="" type="checkbox"/>	D	E
---	---	-------------------------------------	---	---
3. Não deixe questões em branco.
4. Marque com cuidado e assinale apenas uma resposta para cada questão.
5. Posteriormente, transcreva todas as alternativas assinaladas nesta Folha de Respostas Intermediária para a Folha de Respostas Definitiva, utilizando **caneta esferográfica de tinta preta ou azul**.

Etec

#### PROVA (26 RESPOSTAS)

##### RESPOSTAS de 01 a 10

01	A	B	C	D	E
02	A	B	C	D	E
03	A	B	C	D	E
04	A	B	C	D	E
05	A	B	C	D	E
06	A	B	C	D	E
07	A	B	C	D	E
08	A	B	C	D	E
09	A	B	C	D	E
10	A	B	C	D	E

##### RESPOSTAS de 11 a 20

11	A	B	C	D	E
12	A	B	C	D	E
13	A	B	C	D	E
14	A	B	C	D	E
15	A	B	C	D	E
16	A	B	C	D	E
17	A	B	C	D	E
18	A	B	C	D	E
19	A	B	C	D	E
20	A	B	C	D	E

##### RESPOSTAS de 21 a 26

21	A	B	C	D	E
22	A	B	C	D	E
23	A	B	C	D	E
24	A	B	C	D	E
25	A	B	C	D	E
26	A	B	C	D	E

NÃO AMASSE, NÃO DOBRE  
NEM RASURE ESTA FOLHA.